

VAK en GRAAD	WISKUNDE GR 10
KWARTAAL 3	Week 2
ONDERWERP	FUNKSIES – DIE EKSPONENSIËLE FUNKSIE, $y = ab^x + q$, $b > 0$ en $b \neq 1$
DOEL VAN DIE LES	Om:

- Jou bekend te stel aan die vorm, standaardvorm van die vergelyking en die invloed van a en q op die grafiek van die eksponensiële funksie.
- Die eksponensiële funksie te teken deur van die eienskappe daarvan gebruik te maak.
- Die Gebied (definisieversameling) en terrein (waardeversameling) van die eksponensiële funksie te bepaal.
- Die vergelyking van die eksponensiële funksie te bepaal as die grafiek gegee word.

HULPBRONNE	Papier gebaseerde hulpbronne	Digitale hulpbronne
	<i>Gaan asseblief na die Hoofstuk oor Funksies en Grafieke en dan na die gedeelte oor die Eksponensiële funksie in jou Wiskunde Handboek.</i>	https://www.youtube.com/watch?v=b-ugmG3UIAc https://www.youtube.com/watch?v=DASfP8KAyvs https://www.youtube.com/watch?v=tQdXVvcKyp8

INLEIDING:

- In die vorige lesse oor Funksies en Grafieke het jy geleer van die funksie-notasie, $f(x)$, en het ons gekyk na die grafieke van die Parabool en die Hiperbool en hulle eienskappe. In hierdie les ons wil fokus op die eksponensiële funksie.
- Ons noem die basiese funksies vir die parabool: $f(x) = x^2$ en die hiperbool: $f(x) = \frac{1}{x}$ die “moederfunksies”. Op dieselfde manier is die moederfunksie vir die eksponensiële funksie: $f(x) = b^x$. Ons kan gebruik maak van hierdie funksies om enige ander grafiek van die parabool, hiperbool en eksponensiële funksie te teken, deur sekere transformasies op die moederfunksie uit te voer.
- Ons gaan die vorm en ander eienskappe van die eksponensiële funksie ondersoek deur punt-vir-punt af stipping van sommige grafieke.

Les 1a Eienskappe van eksponensiële funksie deur punt-vir-punt af stipping

Voorbeeld 1:

Beskou die funksie $f(x) = 2^x$. Voltooi die tabel hieronder en steek die punte op die Kartesiese vlak af.

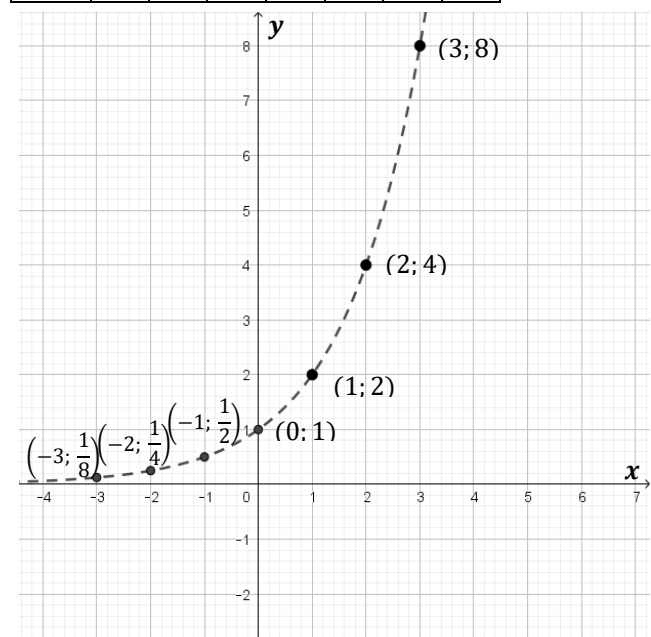
x	-3	-2	-1	0	1	2	3
$f(x)$							

Wat sien ons?

- As ons die punte verbind, sien ons 'n grafiek wat **stygend** is: as die x -waardes toeneem, neem die y -waardes ook toe.
- As ons die x -waardes kleiner en kleiner maak, raak die y -waardes ook kleiner, maar sal nie $y = 0$ bereik nie, wat vir ons aandui dat $y = 0$ 'n **asimptoot** van die grafiek is.
- Die **y -afsnit** is by $y = 1$, omdat $2^0 = 1$

Oplissing:

x	-3	-2	-1	0	1	2	3
$f(x)$	$\frac{1}{8}$	$\frac{1}{4}$	$\frac{1}{2}$	1	2	4	8



Voorbeeld 2:

Beskou die funksie $f(x) = \left(\frac{1}{2}\right)^x$. Voltooi die tabel hieronder en steek die punte op die Kartesiese vlak af.

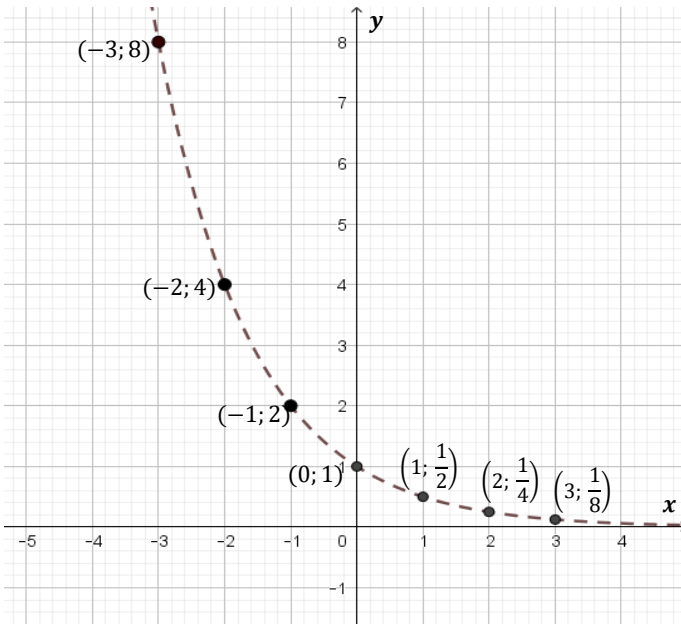
x	-3	-2	-1	0	1	2	3
$f(x)$							

Wat sien ons?

- As ons die punte verbind, sien ons 'n grafiek wat **dalend** is: as die x -waardes toeneem, neem die y -waardes af.
- As ons die x -waardes groter en groter maak, word die y -waardes kleiner, maar sal nie $y = 0$ bereik nie, wat vir ons aandui dat $y = 0$ 'n **asimptoot** van die grafiek is.
- Die **y -afsnit** is by $y = 1$, omdat $\left(\frac{1}{2}\right)^0 = 1$

Oplossing:

x	-3	-2	-1	0	1	2	3
$f(x)$	8	4	2	1	$\frac{1}{2}$	$\frac{1}{4}$	$\frac{1}{8}$



OPSOMMING:

Die grafiek van $f(x) = b^x$:

- As $b > 1$, is die grafiek **stygend**
- As $0 < b < 1$, ('n breuk) is die grafiek **dalend**
- $y = 0$ is 'n **horisontale asimptoot** van die grafiek
- die **y -afsnit** is $y = 1$, omdat $b^0 = 1$
- daar is **geen x -afsnit** nie omdat daar geen plek is waar $y = 0$ nie.

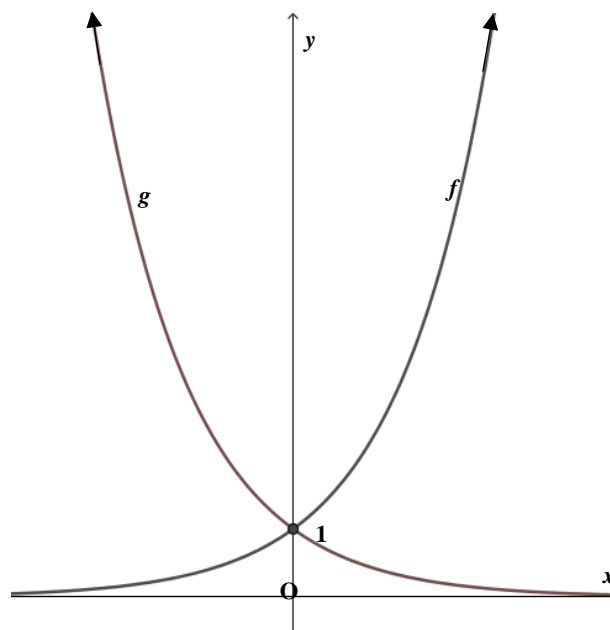
NOTA: Hoekom beperk ons b deur $b > 1$ of

$0 < b < 1$?

- As $b = 0$, dan is $y = 0^x = 0$, wat 'n reguitlyn is en nie 'n eksponensiële grafiek nie (L.W. 0^0 is ongedefinieerd)
- As $b = 1$, dan is $y = 1^x = 1$, wat ook 'n reguitlyn is en nie 'n eksponensiële grafiek nie.
- As $b < 0$, (negatief) bv. $y = (-2)^x$, dan het ons vir sommige waardes van x , y -waardes wat nie-reëel is nie, bv. $(-2)^{\frac{1}{2}} = \sqrt{-2}$ wat Nie- \mathbb{R} is (jy sal meer hieroor in gr 11 leer)

In die diagram:

$f(x) = b^x, b > 1$ en $g(x) = b^x, 0 < b < 1$



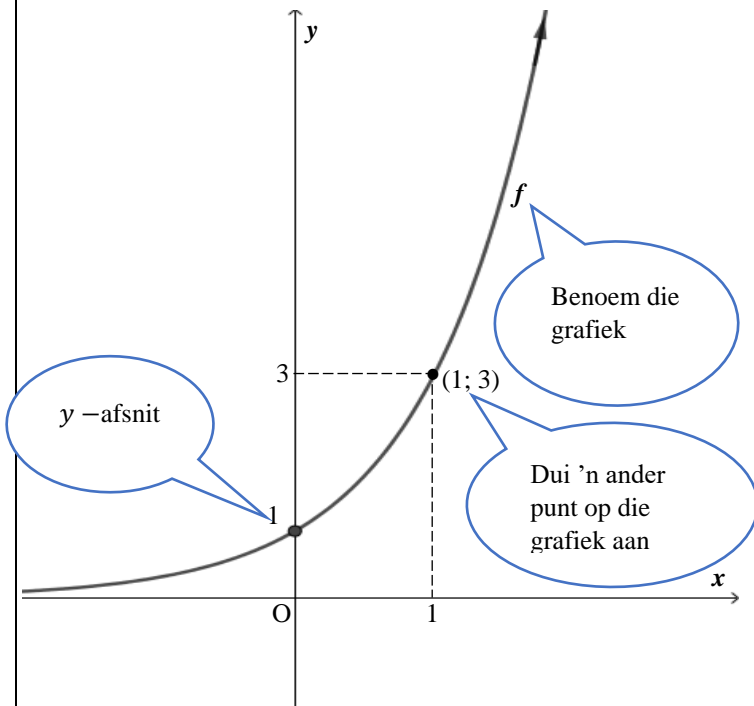
Hoe om die eksponensiële funksie te teken (sonder om 'n tabel te gebruik)

Voorbeeld 3:

Teken die grafiek van $f(x) = 3^x$ op die Kartesiese vlak

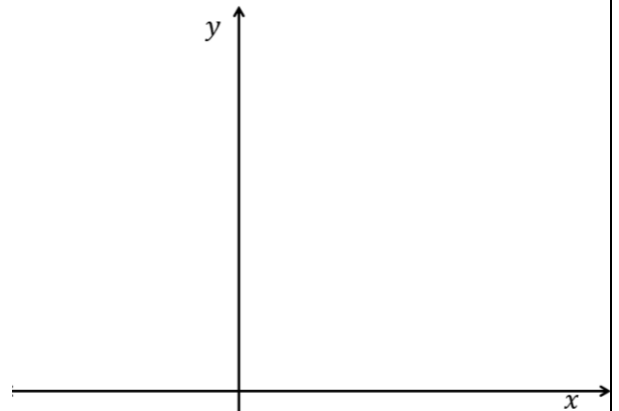
Oplossing:

- $b > 1$, so, die grafiek is **stygend**.
- Teken 'n stygende eksponensiële grafiek
- y -afsnit is by $y = 1$
- Kies enige ander punt, sê bv. $x = 1$ en bereken die ooreenstemmende y -waarde deur substitusie $\Rightarrow y = 3$
- Steek die punt $(1; 3)$ af op die grafiek.
- Benoem die grafiek

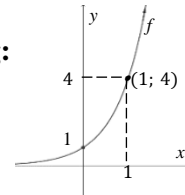


Kan jy?

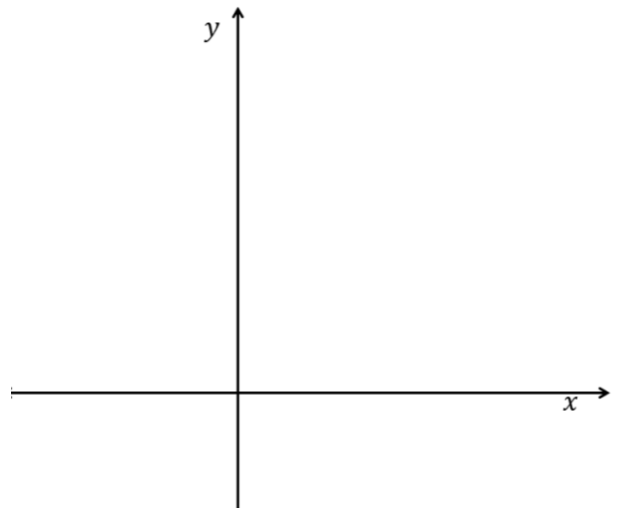
1. Teken die grafiek van $f(x) = 4^x$ op die Kartesiese vlak



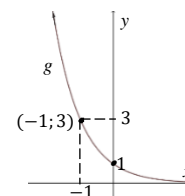
Oplossing:



2. Teken die grafiek van $g(x) = \left(\frac{1}{3}\right)^x$ op die Kartesiese vlak



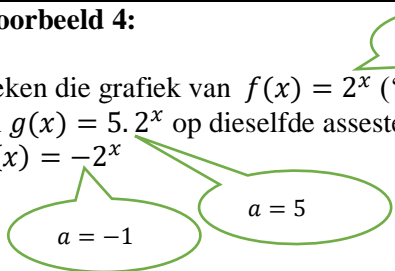
Oplossing:



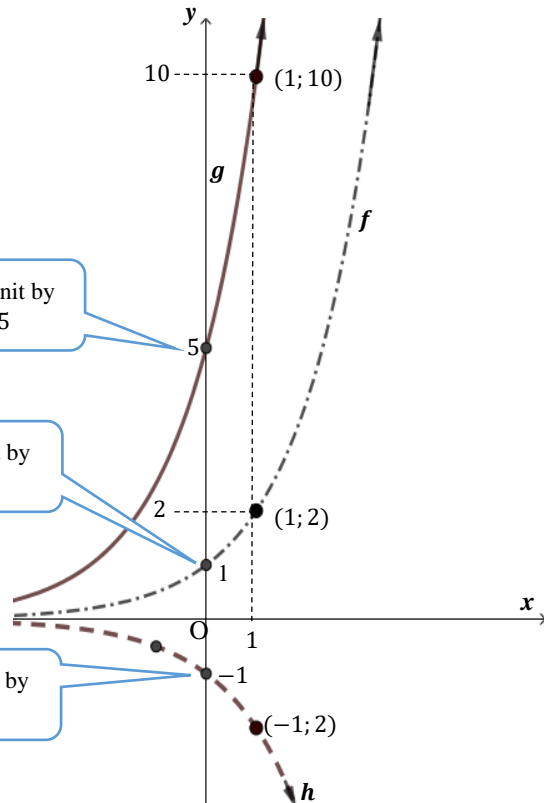
Les 1b Teken die eksponensiële funksie $y = ab^x + q$ deur die eienskappe te gebruik; **die invloed van a ($q = 0$)**

Voorbeeld 4:

Teken die grafiek van $f(x) = 2^x$ ('moeder funksie') en $g(x) = 5 \cdot 2^x$ op dieselfde assestelsel. Teken ook $h(x) = -2^x$



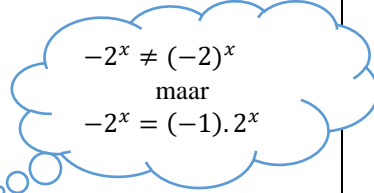
Die grafieke sal só lyk:



Oplossing:

As ons gebruik maak van 'n tabel, vind ons die volgende:

x	-2	-1	0	1	2
$f(x)$	$\frac{1}{4}$	$\frac{1}{2}$	1	2	4
$g(x)$	$\frac{5}{4}$	$\frac{5}{2}$	5	10	20
$h(x)$	$-\frac{1}{4}$	$-\frac{1}{2}$	-1	-2	-4



Al die y -waardes van f word vermenigvuldig met 5 om $g(x)$ te kry.

Ons sien:

- die grafieke het verskillende **y -afsnitte** (by $y = a$)
- die grafiek van g is **steiler** as f - hoe **groter** die waarde van a , hoe **steiler** die grafiek - dit is meer uitgerek opwaarts
- al die grafieke het $y = 0$ ($q = 0$) as **horisontale asimptoot**
- $f(x) = 2^x$ en $h(x) = -2^x$ is **refleksies** van mekaar in die x -as (horisontale asimptoot: $y = 0$)

Opsomming:

Vir die grafiek van $f(x) = a \cdot b^x$

- is die **y -afsnit** by $y = a$
- hoe **groter** die waarde van a , hoe **steiler** (smaller) die grafiek
- die grafiek het $y = 0$ ($q = 0$) as **horisontale asimptoot**
- as $a < 0$, dan ons het 'n **refleksie** in die x -as (**horisontale asimptoot**)
- die **gebied (definisieversameling)** van f is: $x \in \mathbb{R}$, omdat die grafiek vir **ALLE** x -waardes bestaan
- die **terrein (waardeversameling)** van f is: $y > 0$ (as $a > 0$) omdat die grafiek slegs bestaan vir die y -waardes vanaf die asimptoot opwaarts (uitgesluit die asimptoot)

ONTHOU
Gebied: al die x -waardes waaroor die grafiek bestaan

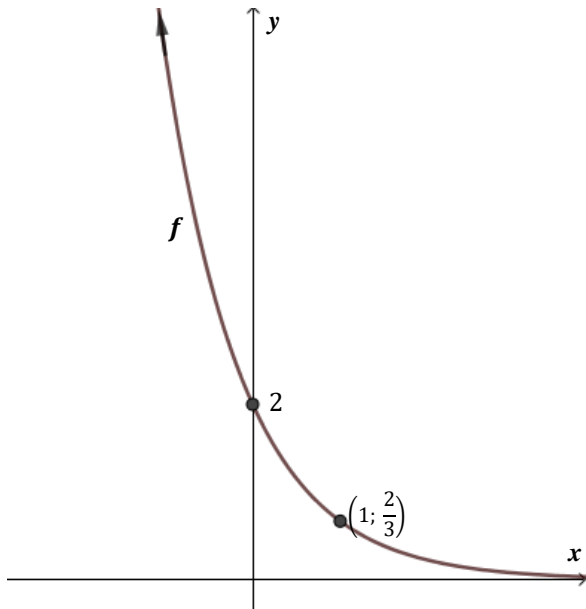
ONTHOU
Terrein: al die y -waardes waaroor die grafiek bestaan

Voorbeeld 5:

- (a) Teken die grafiek van $f(x) = 2 \cdot \left(\frac{1}{3}\right)^x$
 (b) Bepaal die gebied (definisieversameling) en die terrein (waardeversameling) van f

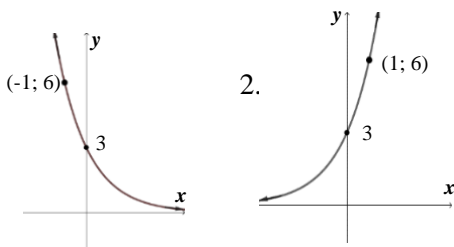
Oplossing:

- (a)
- $0 < b < 1$, so, die grafiek is **dalend**.
 - Teken 'n dalende eksponensiële grafiek
 - y -afsnit is by $y = 2$
 - Kies enige **ander punt**, sê bv. $x = 1$ en bereken die ooreenstemmende y -waarde deur substitusie $\Rightarrow y = \frac{2}{3}$
 - Steek die punt $(1; \frac{2}{3})$ op die grafiek af
 - Benoem die grafiek



- (b) Gebied: $x \in \mathbb{R}$
 Terrein: $y > 0$

Oplossings: 1a)



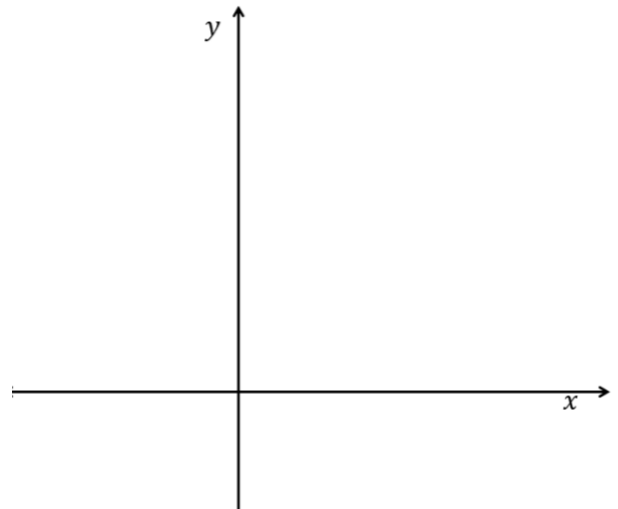
- 1b) Gebied: $x \in \mathbb{R}$
 Terrein: $y > 0$

Kan jy?

1. (a) Teken die grafiek van $f(x) = 3 \cdot \left(\frac{1}{2}\right)^x$
 (b) Wat is die gebied (definisieversameling) en terrein (waardeversameling) van f
 (c) Is die grafiek van f stygend of dalend?

Oplossing:

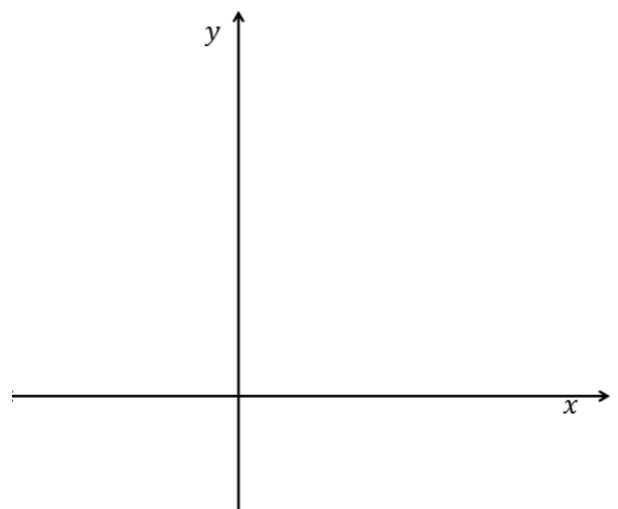
- (a)



- (b) gebied (definisieversameling):
 terrein (waardeversameling):

2. Teken die grafiek van $g(x) = 3 \cdot 2^x$

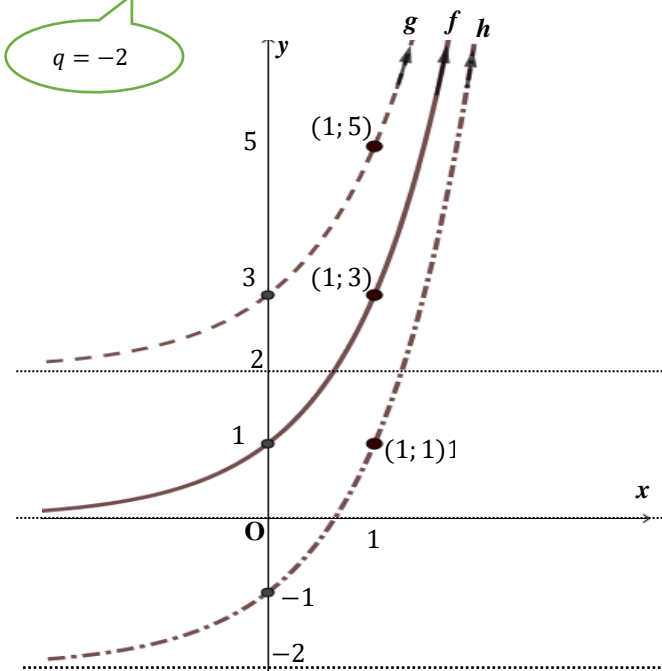
Oplossing:



Les 1b Teken die eksponensiële funksie $y = ab^x + q$ deur die eienskappe te gebruik; **die invloed van q**

Voorbeeld 6:

Teken die grafiek van $f(x) = 3^x$, $g(x) = 3^x + 2$ en $h(x) = 3^x - 2$ op die dieselfde assestelsel



Oplossing:

As ons gebruik maak van 'n tabel, vind ons die volgende:

x	-2	-1	0	1	2
$f(x)$	$\frac{1}{9}$	$\frac{1}{3}$	1	3	9
$g(x)$	$2\frac{1}{9}$	$2\frac{1}{3}$	3	5	11
$h(x)$	$-1\frac{8}{9}$	$-1\frac{2}{3}$	-1	1	7

$$3^{-1} - 2 = -\frac{5}{3} = -1\frac{2}{3}$$

Wat sien ons?

- Al die grafieke is stygend, omdat $b > 1$
- f het 'n horisontale asimptoot by $y = 0$ ($q = 0$)
- g het 'n horisontale asimptoot by $y = 2$ ($q = 2$)
- h het 'n horisontale asimptoot by $y = -2$ ($q = -2$)
- die 'moederfunksie' f het 'n y -afsnit by $y = 1$
- die y -afsnit van g is by $y = 3$; die 'moederfunksie' het 2 eenhede opwaarts geskuif ($q = 2$)
- die y -afsnit van h is by $y = -1$; die 'moederfunksie' het 2 eenhede afwaarts geskuif ($q = -2$)
- die gebied (definisieversameling) van AL die grafieke is $x \in \mathbb{R}$
- die terrein (waardeversameling) van f is $y > 0$ (asimptoot by $y = 0$);
- die terrein (waardeversameling) van g is $y > 2$ (asimptoot by $y = 2$)
- en die terrein (waardeversameling) van h is $y > -2$ (asimptoot by $y = -2$)

Oor die algemeen:

As $f(x) = a \cdot b^x + q$ waar $b > 1$ of $0 < b < 1$, dan:

- Is f **stygend** as $b > 1$ en **dalend** as $0 < b < 1$
- Het f 'n horisontale **asimptoot** by $y = q$
- Is die **y -afsnit** by $y = a + q$ OF bepaal y deur $x = 0$ te stel.
- Kan die **x -afsnit** (indien enige) bepaal word deur $y = 0$ op te los.
- Kan die grafiek van $y = a \cdot b^x + q$ verkry word van die grafiek van die '**moederfunksie**' $y = b^x$ deur sekere transformasies daarop toe te pas.
- Is die **gebied (definisieversameling)** $x \in \mathbb{R}$
- Is die **terrein (waardeversameling)** $y > q$ (as $a > 0$)

Voorbeeld 7:

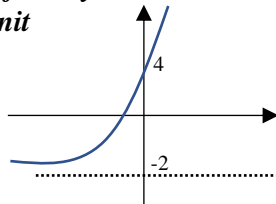
$a = 6; b = 3; q = -2$

Gegee $f(x) = 6 \cdot 3^x - 2$

- (a) Bepaal die afsnitte van f met die asse.
- (b) Gee die vergelyking van die horisontale asimptoot.
- (c) Teken die grafiek van f
- (d) Gee die gebied (definisieversameling) en terrein (waardeversameling) van f

Oplossing:

Ons kan 'n rowwe skets van f maak deur net na die y -afsnit en asimptoot te kyk; omdat $b > 1$ sal die grafiek stygend wees; asimptoot is by $y = -2$ en y -afsnit by $y = 4$ ($6 - 2$) \Rightarrow daar is 'n x -afsnit



(a) y -afsnit: $y = a + q = 6 - 2 = 4$

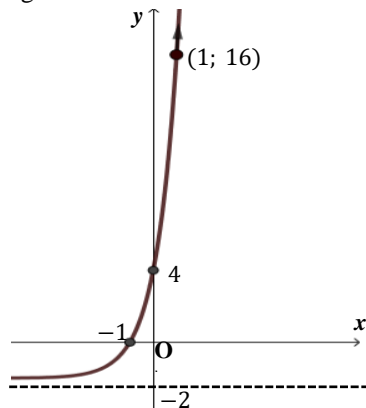
OF: Stel $x = 0 \quad \therefore y = 6 \cdot 3^0 - 2 = 6 \cdot 1 - 2 = 4$

x -afsnit: Stel $y = 0 \quad \therefore 0 = 6 \cdot 3^x - 2$
 $\therefore 2 = 6 \cdot 3^x$
 $\therefore \frac{2}{6} = 3^x = \frac{1}{3}$
 $\therefore 3^x = 3^{-1}$
 $\therefore x = -1$

(b) **Asimptoot:** $y = q \quad \therefore y = -2$

(c) **grafiek**

- teken eers die asimptoot;
 - teken nou 'n stygende eksponensiële grafiek ($b > 1$) wat deur $y = 4$ en $x = -1$ gaan;
 - kies enige ander punt, sê $x = 1$ en bepaal die ooreenstemmende y -waarde $\Rightarrow y = 6 \cdot 3^1 - 2 = 16$
 - Steek die punt $(1; 16)$ op die grafiek af
 - Benoem die grafiek
- Die grafiek sal só lyk:



Kan jy?

Gegee $f(x) = 2 \cdot 4^x + 2$

- (a) Bepaal die afsnitte van f met die asse.
- (b) Gee die vergelyking van die horisontale asimptoot.
- (c) Teken die grafiek van f
- (d) Gee die gebied (definisieversameling) en terrein (waardeversameling) van f

Wenk:

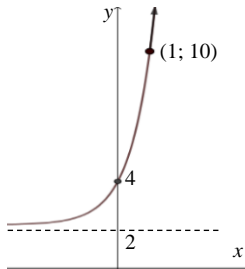
teken eers 'n rowwe skets van $f \Rightarrow$ geen x -afsnit

2. Teken die grafiek van $g(x) = -3^x + 3$

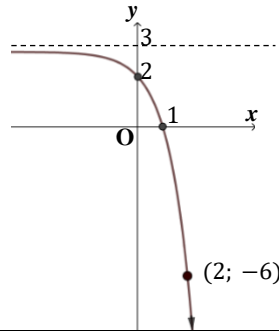
(d) gebied (definisieversameling): $x \in \mathbb{R}$
terrein (waardeversameling): $y > -2$

O oplossings:

1.



2.

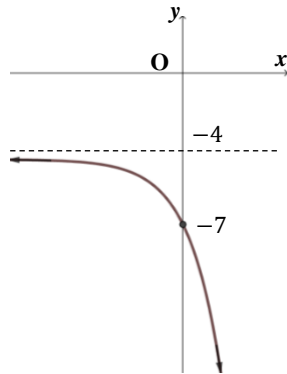


Les 1c | vind die vergelyking van die eksponensiële funksie as die grafiek gegee word.

Voorbeeld 8:

Bepaal die vergelyking van die gegewe grafiek in die vorm:

$$f(x) = a \cdot 2^x + q$$



Oplossing:

$$f(x) = a \cdot 2^x + q$$

$$q = -4 \text{ (horisontale asimptoot by } y = -4)$$

$$\Rightarrow f(x) = a \cdot 2^x - 4$$

y-afsnit

Vervang (0; -7) in vergelyking:

$$\therefore -7 = a \cdot 2^0 - 4$$

$$\therefore -7 + 4 = a \cdot 1$$

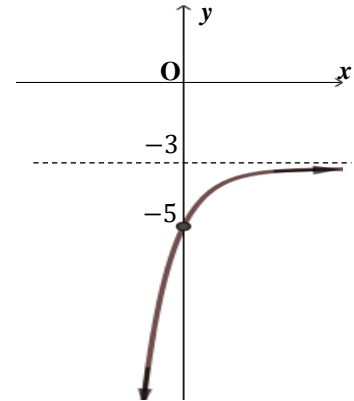
$$\therefore a = -3$$

$$\Rightarrow f(x) = -3 \cdot 2^x - 4$$

Kan jy?

Bepaal die vergelyking van die gegewe grafiek in die vorm:

$$f(x) = a \cdot \left(\frac{1}{5}\right)^x + q$$



Oplossing:

Oplossing:

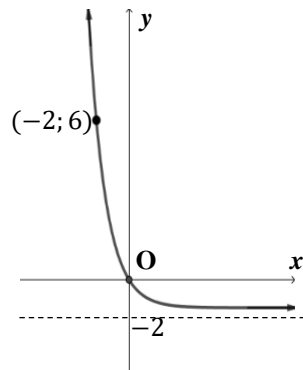
$$f(x) = -2 \cdot \left(\frac{1}{5}\right)^x - 3$$

Voorbeeld 9:

Kan jy?

Bepaal die vergelyking van die gegewe grafiek in die vorm:

$$g(x) = a \cdot b^x + q$$



Oplossing:

$$g(x) = a \cdot b^x + q$$

horisontale asimptoot is by $y = -2$

$$\therefore g(x) = a \cdot b^x - 2$$

grafiek gaan deur oorsprong $(0; 0)$

Vervang $(0; 0)$ in vergelyking: $\Rightarrow 0 = a \cdot b^0 - 2$

$$\therefore 2 = a \cdot 1 \Rightarrow a = 2$$

$$\therefore g(x) = 2 \cdot b^x - 2$$

omdat die grafiek dalend is, is b 'n breuk

Vervang punt $(-2; 6)$ in vergelyking:

$$\therefore 6 = 2 \cdot b^{-2} - 2 \Rightarrow 6 + 2 = 2 \cdot b^{-2} \quad \therefore \frac{8}{2} = 4 = b^{-2}$$

$$\therefore (b^{-2})^{-\frac{1}{2}} = 4^{-\frac{1}{2}}$$

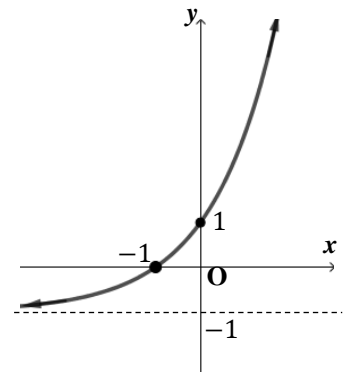
$$\therefore b = (2^2)^{-\frac{1}{2}} = 2^{-1}$$

$$\therefore b = \frac{1}{2}$$

$$\therefore \text{vergelyking: } g(x) = 2 \cdot \left(\frac{1}{2}\right)^x - 2$$

Bepaal die vergelyking van die gegewe grafiek in die vorm:

$$g(x) = a \cdot b^x + q$$



Oplossing:

Oplossing:

$$g(x) = 2 \cdot 2^x - 1$$

Samevatting: As $f(x) = a \cdot b^x + q$ waar $b > 1$ of $0 < b < 1$, dan:

- f is **stygend** as $b > 1$ en **dalend** as $0 < b < 1$
 - f het 'n horisontale **asimptoot** by $y = q$
 - Die **y -afsnit** is by $y = a + q$ OF bepaal deur $x = 0$ te stel.
 - Die **x -afsnit** (indien enige) kan bepaal word deur $y = 0$ op te los.
 - Die grafiek van $y = a \cdot b^x + q$ kan verkry word van die '**moederfunksie**' $y = b^x$ deur sekere transformasies daarop toe te pas.
 - Die **gebied (definisieversameling)** is $x \in \mathbb{R}$
 - Die **terrein (waardeversameling)** is $y > q$ (as $a > 0$) en $y < q$ (as $a < 0$)
- Bepaal die vergelyking van 'n gegewe eksponensiële grafiek deur: $y = a \cdot b^x + q$ te gebruik.
 - Kry die waarde van q vanaf die horisontale asimptoot.
 - Bepaal die waarde van a deur die ander punt in die vergelyking te vervang.
 - Gewoonlik word b gegee: as die grafiek stygend is, dan is $b > 1$; as die grafiek dalend is, is b 'n breuk, andersins vervang 'n ander punt om b te bepaal.



Oefeninge oor die Eksponensiële funksie

Siyavula Hoofstuk 5 bl. 145

bl. 157 Oef 5.5; bl. 185 Einde van hoofstuk Oef nrs. 3; 10f; 11; 12

Mind Action Series Graad 10

bl. 131- 133 Oef 4 'n – h; bl. 153 – 154 Oef 11; bl. 116 – 117 Konsolidasie en Hersiening

Klaskamer Wiskunde bl. 142-178: